

اسم المادة: مناخ شمولي
الزمن: ثلاث ساعات
التاريخ: ٢٠٢١/٩/٢٥
الدور: كورس ثاني
نموذج: (1)

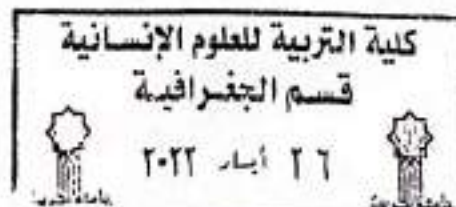


جمهورية العراق
وزارة التعليم العالي والبحث العلمي
جامعة تكريت
كلية التربية للعلوم الانسانية
قسم: الجغرافية
المرحلة: ماجستير

اسئلة امتحان الدراسات العليا الكورس الثاني للعام الدراسي 2021 - 2022

الرقم	السؤال	درجة
1س	تکلم عن الرياح القطبية بشكل مفصل	14
2س	اجب عن الفراغات التالية بما يناسبها 1- اهم ما يميز رياح الاعالي هو وجود _____ . 2- تعطى الكتل الهوائية الرمز _____ اذا كانت تمر على سطح ابرد منها . 3- الضغط العالي على السطح يطلق عليه اسم المرتفع الجوي والضغط المرتفع يكون على شكل _____ . 4- يسمى تيار المحيط الأطلسي الشمالي عند مروره بسواحل أمريكا الشمالية بتيار _____ .	14
3س	ضع كلمة صح او خطأ ثم صحح الخطأ 1- حجم تعرج الهواء في الأعلى هو الذي يميز بين الدورات الهوائية في الأعلى . 2- الكتلة الهوائية البحرية تتكون فوق المحيطات شمال وجنوب دائرة عرض 45-60 3- تلتقي التيارات البحرية الدافئة والباردة شرق القارات قرب دائرة عرض 50 4- تتكون خلية هادلي من رياح سطحية وتيار هابط فوق دائرتي 30 شمالا وجنوبا .	14
4س	عرف التيار النفاث وكيفية تكوينه واتجاه حركته	14
5س	اجب باختصار عن كل مما يأتي 1- ما هو سبب عدم وجود جبهه هوائية في المرتفع الجوي 2- سبب اختلاف دورة التيارات البحرية بين الصيف والشتاء في المحيط الهندي . 3- الهواء البارد في مؤخرة المنخفض يكون ابرد من الهواء البارد في مقدمة المنخفض 4- سبب تكون الأمواج الطويلة (روزبي) .	14

مع تمنياتي لكم بالنجاح



اسم وتوقيع رئيس القسم

اللجنة الامتحانية للدراسات العليا

مدرس المادة:

اسم المادة: خرائط التوزيعات
الزمن: ثلاث ساعات
التاريخ: ٢٣/٥/٢٠٢٢
الدور: الأول
نموذج: (1)

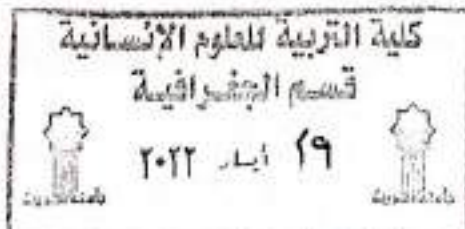


جمهورية العراق
وزارة التعليم العالي والبحث العلمي
جامعة تكريت
كلية التربية للعلوم الانسانية
قسم: الجغرافية
المرحلة: الماجستير

اسئلة امتحان الدراسات العليا الكورس الثاني للعام الدراسي 2021 - 2022

الرقم	السؤال	درجة
1س	ضع علامة صح امام العبارة الصحيحة و عبارة خطأ امام العبارة الخاطئة ثم صحح الخطأ 1- ان الطريقة الأكثر شيوعا في تثيل خرائط توزيعات الدوائر هي طريقة النسبة والتناسب 2- يمكن استخدام الخرائط الديقومترية في تمثيل رطوبة التربة 3- تستخدم الدوائر المقسمة لتمثيل قيمتين مجموعهما ظاهرة واحدة 4- يمكن استخدام خرائط المثلثات المقسمة قاعديا في تمثيل المجموع العام للظاهرة 5- يقصد بخرائط الحركة الأحادية هي التي تمثل بسمك واحد 6- تسمى خرائط الكوربليث بخرائط الكثافة 7- يجب ان تكون ارقام مقياس خرائط الدوائر النسبية ذات طرفية صفرية	14
2س	املا الفراغات التالية 1- ان مفهوم خرائط التوزيعات هو..... 2- ان طريقة جيمس فلانري هي 3- من أنواع خرائط الاعمدة 4- يقصد بالرموز التصويرية..... 5- ان فرق الخرائط الديقومترية عن الكوربليث هو،، 6- تستخدم الرموز المساحية بطريقتين هي: 7- ان القياس الفاصلي هو.....	14
3س	ما هو مفهوم خرائط الكارتوكرام ، وما هي انواعه وما مميزات كل نوع، وما هي طريقة بنائه	14
4س	وضح ما يأتي باختصار: 1- طريقة بناء الخرائط الديقومترية 2- تصنيفات خرائط التوزيعات	14
5س	ما هو مفهوم خرائط النقاط وما هي انواعها و اشرح اهم مشاكلها	14

مع تمنياتي لكم بالنجاح



اللجنة الامتحانية للدراسات العليا

اسم المادة: ستراتيجية المضايق

الزمن: ثلاث ساعات

التاريخ: ٢٦ / ٥ / 2022

الدور: الاول

نموذج رقم (1)



جمهورية العراق
وزارة التعليم العالي والبحث العلمي

جامعة تكريت

كلية التربية للعلوم الانسانية

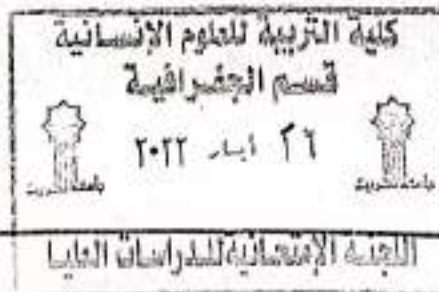
قسم: الجغرافيا

المرحلة: ماجستير / الفصل الثاني

اسئلة الامتحانات النهائية للعام الدراسي 2021-2022

رقم السؤال	السؤال	درجة السؤال
10	1- ناقش بالتفصيل العبارة الاتية :- اعتبر بحر قزوين حلقة ستراتيجية عبر حرب الاتاييب التي مرت على الدول المتشاطئة والاقليمية عند اراضيها ؟	1 من
7	ب- تصنف المضايق من الناحية القاتونية تبعاً لطبيعة جيزها المائي الى عدة انواع اذكرها بالتفصيل ؟	7
5	1- املا الفراغات الاتية : 1- اشاره بأن الفكر الاستراتيجي يتحدد بالمشكلات السياسية . 2- تخضع المضايق الى حق المرور البرئ بفعل امرين هما و 3- اعتبر بحر قزوين بحراً سوفياتياً ايرانياً خاصاً منذ مطلع حتى عام 4- اكدت معاهدة عام على حرية الملاحة التركية على مضايقها 5- ساعد البترول على تفعيل الملاحة في و الشرق الاوسط	5
7	ب- تكلم عن مضيق باب المندب من وجهة نظر الجغرافيا السياسية وبالتفصيل ؟	7
5	1- ضع كلمة صح امام العبارة الصحيحة وكلمة خطأ امام العبارة الخاطئة ثم صحح الخطأ ان وجد :- 1- اشارة ساور ان الجغرافيا السياسية هي الابن العائق للجغرافيا 2- نموذج الهوية الحزبية يفسر سلوك المرشحين من خلال انتمائهم الحزبي 3- الدول المقسمة هي المناطق التي تنقسم السيطرة عليها اكثر من دولة 4- الحدود التالية هي حدود سياسية تخنفي نتيجة عملية الضم بعد تحول المستعمرات الى دول مستقلة 5- اعتبر بحر قزوين ما قبل 1970 بحراً سوفياتياً فقط	5
5	ب- اكتب خمسة مصادر في الجغرافيا السياسية ما بعد 2010 وحسب خطوات البحث العلمي ؟	5
5	1- ما الفرق بين الارادة والسيادة البحرية عند المضايق الملاحية ، معزراً اجابتك بالامثلة ؟	5
6	ب- عرف الاستراتيجية وماهي الشروط التي يجب توفرها عند وضعها وبالتفصيل؟	6
20	اكتب بحثاً جغرافياً حسب خطوات البحث العلمي وبالتفصيل عن مضيق له اثر في الجغرافيا السياسية ؟	20

اسم وتوقيع رئيس القسم
د. د. حسين علاوي محمد



اسم وتوقيع مدرس المادة
أ. د. نصيف حاسم اسود سالم