


اسم المادة: جغرافية سياسية

الزمن: ثلاث ساعات

التاريخ: 6 / 6 / 2024

نموذج رقم (1)



جمهورية العراق
وزارة التعليم العالي والبحث العلمي

جامعة تكريت

كلية التربية للعلوم الانسانية

قسم : الجغرافية

الدراسة: الماجستير
دكتراة

اسئلة امتحان الكورس الاول العليا للعام الدراسي 2023-2024

رقم السؤال	السؤال	درجة السؤال
1	للدولة مقومات قوة متعددة من أبرزها العامل الاقتصادي والعامل التكنولوجي، بين ايهما أكثر أهمية من الاخر في قياس قوة الدولة من وجهة نظرك؟ ولماذا؟	20
2	هناك مناهج متعددة في الجغرافية السياسية منها ما هو قديم ومنها ما هو حديث، معظم هذه المناهج تدرس الدولة او أحد مكوناتها، فإذا ما قمنا بدراسة دولة مثل ما يسمى بـ "اسرائيل"، أي المناهج تراه هو الأنسب في اجراء هذه الدراسة؟ وما السبب؟ بين ذلك بالتفصيل؟	15
3	يرى صموئيل هنتنغتون في عالم ما بعد الحرب الباردة أن الشعوب تبحث عن هويتها وتتعلق بها، كذلك رموز الهوية؛ مثل (الهلال والصليب وغطاء الرأس) إذ إن الهوية الثقافية هي الأهم بالنسبة إلى معظم الناس، ذلك أنها تُعرّفهم بأنفسهم وبأعدائهم وتحدد لهم رسالتهم ومعاركهم وأعداءهم في الحياة، وإذا فعالم ما بعد الحرب الباردة هو عالم منقسم إلى حضارات، عامل التقسيم فيه هو (الهوية الثقافية)، هذه هي خلاصة ما طرحه هنتنغتون في نظريته، من خلال دراستك ناقش كل ذلك بإيجاز؟	20
4	املا الفراغات الآتية بما يناسبها:- 1- يدرس الدولة من حيث العناصر التي تتألف منها او التي تكونها كالحجم والشكل والمناخ والموارد والسكان وغيرها من العوامل. 2- والقوة هي قدرة الدولة أو مؤسساتها على استخدام الموارد المتاحة المادية، وغير المادية وتحويلها إلى..... 3- ويعرف بأنه البيئية الافتراضية التي يحدث فيها الاتصال عبر شبكات الكمبيوتر. 4- الحدود الشبكية هي تلك الحدود التي تعتمد الإمتداد بين الحدود الرسمية للدول والتي تؤثر في نتائج الانتخابات الرسمية لهذه الدول . 5- تسعى العولمة الى فرض الهيمنة الامبريالية على العالم تحت الزعامة المنفردة للولايات المتحدة الامريكية مما يفضي الى تذويب بحيث تفقد سيادتها.	15

6 06. 2024

اسم وتوقيع رئيس القسم
ا.م.د محمد عطيه صالح


مدرس المادة:
ا.د مثنى مشعان خلف

اسم المادة: تطبيقات جيومورفولوجية

الزمن: ثلاث ساعات

التاريخ: / / 2024

نموذج رقم (1)



جمهورية العراق
وزارة التعليم العالي والبحث العلمي
جامعة تكريت
كلية التربية للعلوم الانسانية
قسم : الجغرافية
الدراسة: دكتوراه

اسئلة امتحان الكورس الثاني العليا للعام الدراسي 2023-2024

رقم السؤال	السؤال	درجة السؤال
1س	ضع علامة صح او خطأ امام العبارات ثم صحح الخاطئة ان وجدت :- 1- يقع (نطاق عدم التشبع) اسفل السطح مباشرة ولا يمر الماء من خلاله؟ 2- يكثر وجود البالوعات في الأقاليم الجبلية وتنشأ نتيجة تسرب مياه الامطار في الفواصل؟ 3- تصنف هضبة كولومبيا وسنيك احد اصناف الهضاب الالتوائية؟ 4- يعرف الصدع العادي بصدع الشد او صدع الجاذبية؟ 5- يظهر الترقق على شكل طبقات وصفائح رقيقة لا يزيد سمكها عن بضعة ملليمترات؟	10
2س	املا الفراغات للعبارات التالية:- 1- يعد ال..... قرب المنبع احد أسباب تقعر القطاعات الطولية للأنهر؟ 2- من الحقائق الجيومورفولوجية الثابتة شدة تأثير النشاط النهري.....التعرية؟ 3- تمثل الطبقة (A) طبقة..... عند وصفها باصناف الترب الهيدرولوجية؟ 4- تظهر..... بشكل اسطح مهلهلة ومقطعة ووعرة ومرصعة بالثقوب في الطبيعة؟ 5- تعرف..... بالسدود الراسية وتظهر عندما تمتد اسافين من الماجما النارية متقاطعة مع سطح طبقات رسوبية او نارية؟	10
3س	أ- اشرح بالتفصيل خطوات تقدير حجم الجريان السطحي (QV)؟ ب- وضح بالتفصيل مشروع بحثي متكامل ووفق خطة منهجية رصينة موضوع بحث تفصيلي من بداية العنوان الى المفصل الأخير للبحث؟ ومن ثم الإجابة عن الاستفسارات الموضحة التالية مركز اجابتك بأمثلة توضيحية او نصية ووفق التالي؟ 1- مثال عن كيفية ترتيب (المحتوى) بالتسلسل الصحيح 2- آلية ترتيب الدراسات السابقة (بحسب ماذا) 3- مثال عن كيفية (كتابة المصادر بالمتن) 4- مثال عن كيفية (كتابة المصادر بالنهاية) 4- مثال توضيحي (كيفية كتابة مصدر مكرر بنفس الصفحة) 4- كيفية كتابة مصدر الجداول والاشكال والصور والخرائط (أمثلة توضيحية) 5- كيفية ارشفة المصدر وكتابته في متن البحث والنهاية للبحث (مثال توضيحي) 6- كيفية معالجة كثرة الصور في البحث (معالجة)	10 10

اسم وتوقيع رئيس القسم
أ.م.د. محمد عطية



مدرس المادة:


أ.م.د. محمد خليل
قسم الجغرافيا التطبيقية

اسم المادة: نظم معلومات جغرافية

الزمن: ثلاث ساعات

التاريخ: / / ٢٠٢٤

نموذج رقم (١)

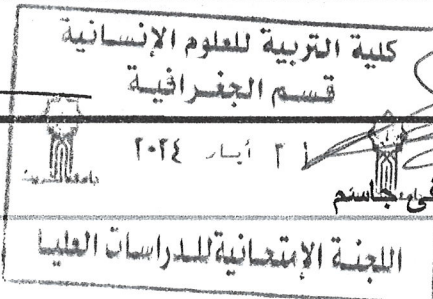


جمهورية العراق
وزارة التعليم العالي والبحث العلمي
جامعة تكريت
كلية التربية للعلوم الانسانية
قسم: الجغرافية
الدراسة: الدكتوراه

اسئلة امتحان الكورس الثاني العليا للعام الدراسي ٢٠٢٣-٢٠٢٤


رقم السؤال	السؤال	درجة السؤال
١س	ضع علامة صح امام العبارة الصحيحة وعلامة خطأ امام العبارة الخاطئة ثم صحح الخطأ ١- ان نظام رود (Rod) وهو تصنيف يعتمد على مجموعة ألوان الطيف الشمسي، بحسب أطوال موجاتها. ٢- ان الألوان الحيادية هي التي تنتج عن مزج الألوان ٣- الانعكاس الطيفي هو نسبة الشعاع المنعكس الى نسبة الشعاع الصادر ٤- ان البيانات المكانية الاستاتيكية تلك البيانات الثابتة او ذات التغير البطيء جدا للظاهرة الجغرافية . ٥- التنعيم Smoothing هو عمليه التدخل في النقاط الداخليه في التركيب الهندسي للمعلم بغية تقليل التفاصيل	١٠
٢س	أملأ الفراغات التالية ١- من اهم أنظمة الألوان في نظم المعلومات الجغرافية ٢- من أجزاء واجهة برنامج Arc map هي : ٣- ان عناصر التعميم في الانموذج هي ٤- من انواع التصحيح الاحداثي ٥- ان القانون الطبولوجي القانون السادس (must be covered by) يعني	١٠
٣س	وضح ما يأتي ١- استخدامات MASKING التتبع ٢- العلاقات المكانية في الطبولوجيا ٣- فوائد النماذج في نظم المعلومات الجغرافية ٤- استخدامات أدوات الاقواس والزوايا في نظم المعلومات الجغرافية ٥- أهمية البعد الرابع في GIS	١٠
٤س	ما هو مفهوم الملتيميديا في نظم المعلومات الجغرافية ، وضح مكوناته ، وما هي أهميته وخصائصه وسلبياته وإيجابياته	١٠
٥س	ما هو مفهوم النطاق المكاني في نظم المعلومات الجغرافية ، وما هي انواعه وما هي انماطه ، وما هي أهميته ومشاكله	١٠

اسم وتوقيع رئيس القسم
د. محمد عطية صالح



مدرس المادة: أ.د. صديق مصطفى جاسم

اللجنة الإمتحانية للدراسات العليا



اسئلة الامتحانات النهائية للدراسات العليا الفصل الثاني/ الدور (الأول) للعام 2023 / 2024 نموذج (A)

1	<p>Complete the following sentences with suitable choices. (Choose Ten only).</p> <ol style="list-style-type: none">Rami will _____ to Paris with her friend Nadia. (a. traveled b. travel c. travels)The water _____ at 100 c. (a. boils b. boil c. boiled)The player _____ won the game . (a. is b. has c. have)Nada had _____ to Egypt last year. (a. traveled b. travel c. travels)The students _____ to college every day at 9 o'clock. (a. went b. go c. goes)Ali will _____ a new house next year. (a. buys b. bought c. buy)Leen will _____ her friends to her party. (a. invited b. invite c. invites)We are _____ Education at the college. (a. studying b. study c. studied)The name of the head _____ Khalil. (a. is b. are c. has)Rahma _____ two brothers and one sister. (a. has b. have c. had)Samir always _____ his friend in Baghdad. (a. Visited b. visits c. visit)Karam _____ his bike now. (a. is washing b. was washing c. are washing)	20
2	<p>Write the words in the correct order to make questions. (Choose Five only)</p> <ol style="list-style-type: none">make / do / study plan / how often / a / youhow / to / study / do / prefer / youusually/ study/ when/ you/ domake / you / notes / do / when you studydo/ where/ you/ study/ to/ likestudy / many / do / how / you / hours / in a week	10
3	<p>Join the following sentences by using(So). (Choose Five only).</p> <ol style="list-style-type: none">A personal diary is only for ourselves. a . we read the text quickly to find it.Sami-likes climbing mountains. b . he is going to Switzerland for his holidays.	10

اسم وتوقيع رئيس القسم
د. م. د. محمد علي صالح


كلية التربية للعلوم الإدمية
قسم الجغرافيا

اسم وتوقيع مدرس المادة
أ. م. د. نجوى ياسين اسماعيل

٢٣ أيار ٢٠٢٤

اللجنة الامتانية للدراسات العليا

اسم المادة: سكان وتنمية
الزمن: 3 ساعات
التاريخ: 2024 / 0 / 10
الدور: الاول
نموذج رقم (أ)



جمهورية العراق
وزارة التعليم العالي والبحث العلمي
جامعة تكريت
كلية التربية للعلوم الإنسانية
قسم الجغرافية
المرحلة: الدكتوراه

اسئلة امتحان الفصل الثاني للعام الدراسي 2023-2024


الدرجة	السؤال	الرقم																																						
14	<p>اجب بكلمة صح أو خطأ ثم صحح الخطأ حيثما وجد في كل مما يأتي:</p> <p>1- معدل الوفيات الخام يميز بين الفئات العمرية التي تختلف فيما بينها في احتمالية الوفاة, لذلك يلاحظ ارتفاع هذا المعدل في الدول المتقدمة مثل الولايات المتحدة والسويد وانخفاضه في الدول النامية.</p> <p>2- تصل نسبة السكان صغار السن في البلدان النامية الى 30% وفي معظم الدول المتقدمة تقل عن 10%.</p> <p>3- تحدد رتبة اي مؤشر لقياس الرفاه الاجتماعي استناداً الى قيمة المؤشر.</p> <p>4- يعبر عن نسبة النوع بقسمة عدد الذكور على عدد الاناث $\times 100$</p> <p>5- ان ارتفاع معدلات المواليد واستمراره لسنوات طويلة يؤدي الى خلق هيكل عمري يمكن رسمه على شكل مثلث ذي قاعدة عريضة.</p> <p>6- نسبة الاعالة الحقيقية هي حاصل قسمة عدد السكان العاملين على عدد السكان في سن العمل $\times 100$.</p> <p>7- تأتي محافظة المثنى في المرتبة الاولى بين محافظات العراق في معدل الفقر ولسنوات متتالية.</p>	1س																																						
14	<table border="1"> <thead> <tr> <th>الفئات العمرية</th> <th>السكان</th> </tr> </thead> <tbody> <tr> <td>4-0</td> <td>66138</td> </tr> <tr> <td>9-5</td> <td>61629</td> </tr> <tr> <td>14-10</td> <td>52101</td> </tr> <tr> <td>19-15</td> <td>42940</td> </tr> <tr> <td>24-20</td> <td>35832</td> </tr> <tr> <td>29-25</td> <td>31421</td> </tr> <tr> <td>34-30</td> <td>23808</td> </tr> <tr> <td>39-35</td> <td>16647</td> </tr> <tr> <td>44-40</td> <td>18144</td> </tr> <tr> <td>49-45</td> <td>11812</td> </tr> <tr> <td>54-50</td> <td>9615</td> </tr> <tr> <td>59-55</td> <td>6749</td> </tr> <tr> <td>64-60</td> <td>4640</td> </tr> <tr> <td>69-65</td> <td>5095</td> </tr> <tr> <td>74-70</td> <td>3257</td> </tr> <tr> <td>79-75</td> <td>1972</td> </tr> <tr> <td>80- فأكثر</td> <td>2939</td> </tr> <tr> <td>المجموع</td> <td>394739</td> </tr> </tbody> </table> <p>البيانات في الجدول تمثل اعداد السكان الحضر في محافظة صلاح الدين بحسب الفئات العمرية لعام 1997, المطلوب تحليل بنية السكان العمرية باعتماد مؤشري العمر الوسيط ودليل التعمر.</p>	الفئات العمرية	السكان	4-0	66138	9-5	61629	14-10	52101	19-15	42940	24-20	35832	29-25	31421	34-30	23808	39-35	16647	44-40	18144	49-45	11812	54-50	9615	59-55	6749	64-60	4640	69-65	5095	74-70	3257	79-75	1972	80- فأكثر	2939	المجموع	394739	2س
الفئات العمرية	السكان																																							
4-0	66138																																							
9-5	61629																																							
14-10	52101																																							
19-15	42940																																							
24-20	35832																																							
29-25	31421																																							
34-30	23808																																							
39-35	16647																																							
44-40	18144																																							
49-45	11812																																							
54-50	9615																																							
59-55	6749																																							
64-60	4640																																							
69-65	5095																																							
74-70	3257																																							
79-75	1972																																							
80- فأكثر	2939																																							
المجموع	394739																																							
14	<p>الاتجاه العام للخصوبة السكانية في العالم يميل نحو الانخفاض وقد مرت بعدة مراحل ديموغرافية. وضح بالتفصيل تلك المراحل التي مرت بها الخصوبة السكانية, ثم عدد فقط العوامل المؤثرة فيها.</p>	3س																																						
14	<p>بلغ مجموع سكان محافظة صلاح الدين عام 1997 (859592) نسمة وفي عام 2023 بلغ (1767837). استخرج معدل النمو السنوي للسكان, ثم احسب حجم السكان المتوقع لعام 2040.</p>	4س																																						
14	<p>اكتب ملخصاً لمشروع بحث في جغرافية السكان يعالج مشكلة سكانية متبعاً فيه خطوات البحث الجغرافي.</p>	5س																																						

اسم وتوقيع رئيس القسم

أ.م.د. محمد عطية صالح

اسم وتوقيع مدرس المادة

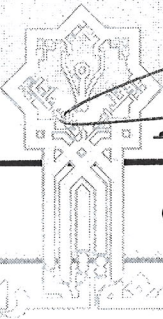
أ.م.د. عبد الرزاق جاسم احمد



اسئلة الامتحان للدراسات العليا الكورس الثاني للعام الدراسي ٢٠٢٣-٢٠٢٤

رقم السؤال	السؤال	درجة السؤال
١س	عدد العوامل التي تساعد على تكوين الجزيرة الحرارية الحضرية بـايجاز.	١٠
٢س	وضح كيف يؤثر الارتفاع على تكوين السحب.	١٠
٣س	هناك عدت جوانب مهمة يؤثر فيها الاشعاع الشمسي على المناخ المحلي اذكرها بـايجاز.	١٠
٤س	يختلف المناخ المحلي بين مظاهر السطح المختلفة ومن خلال ما اطلعت عليه ناقش مناخ السفوح	١٠
٥س	اجب عن الفراغات التالية بما يناسبها : ١- الاشعة ذات التأثير الأكبر تكون بمعدل طول موجي بين الى مايكرون. ٢- اختلاف التسخين بين اليباس والماء يؤدي الى اختلاف ضغطي بسيط لا يتجاوز ٣- تتميز الرطوبة بأنها شيء لأن بخار الماء يتميز بالحالة الغازية له. ٤- يعرف معدل انخفاض الحرارة في الغلاف الجوي بالارتفاع باسم ٥- يتغير الضغط الجوي بمعدل حوالي ١ ملي بار لكل متر نرتفع فيها.	١٠
٦س	ضع كلمة صح او خطأ اما كل مما يأتي ثم صحح الخطأ: ١- الموازنة الاشعاعية هي الفرق بين الاشعاع المكتسب والاشعاع الواصل الى سطح الأرض. ٢- ان فهم تأثيرات المناخ على استهلاك الكهرباء يساعد في تحديد إستراتيجيات أفضل لتأمين امداد الطاقة. ٣- في الرطوبة النوعية يتم قياسها كنسبة كتلة بخار الماء الى كتلة الهواء. ٤- قد تكون المناطق الصحراوية اكثر رطوبة من المناطق الجبلية الموجودة في الصحاري وذلك بسبب تكثف البخار المائي. ٥- تصبح الجزيرة الحرارية اكثر وضوحا بعد غروب الشمس وتظهر اكثر في فصل الشتاء.	١٠
٧س	نسيم الجبل والوادي متى يتكون وما هو اتجاه الرياح وتأثيراته على الزراعة.	١٠

تمنياتي لكم بالنجاح



اسم وتوقيع رئيس القسم
ا.م.د محمد عطيه صالح

مدرس المادة:
ا.م.د محمد عطيه صالح


اسم المادة: تطبيقات هايدرولوجية

الزمن: ثلاث ساعات

التاريخ: ٢٦ / ٥ / ٢٠٢٤

الدور: الاول

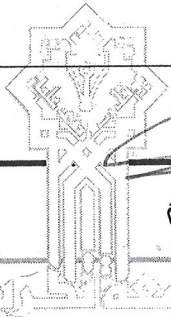
نموذج رقم (١)



جمهورية العراق
وزارة التعليم العالي والبحث العلمي
جامعة تكريت
كلية التربية للعلوم الانسانية
قسم : الجغرافية
المرحلة: الدكتوراه/طبيعي

اسئلة الامتحانات النهائية للعام الدراسي ٢٠٢٣-٢٠٢٤

رقم السؤال	السؤال	درجة السؤال																					
١س	طبق هايدرولوجيا الادوات الخاصة باشتقاق مجاري احواض التصريف المائي، مبينا اهم خطوات استخراج الشبكة المائية ضمن بيئة برنامج Gis	١٢ درج																					
٢س	اجب بكلمة (صح) امام العبارة الصحيحة وكلمة (خطأ) امام العبارة الخاطئة، ثم صحح العبارات الخاطئة أن وجدت . ١- الفرق بين كمية الامطار وكمية المياه الجارية يساوي كمية المياه المتسربة ٢- تعبر السعة الحقلية عن مستوى معين من الرطوبة الأرضية التي لا يمكن عندها ان يمتص النبات الماء ٢- اذا زاد التبخر النتح الكامن على التساقط فان الفارق بينهما يغذي التربة وصولا الى سعتها الحقلية ٤- طريقة المصائد تحدث في المجاري المائية المتقطعة الجريان وتكون جوانبها مساوية لسطح القاع ٥- تعد طريقة ثيسين من ادق الطرق في عملية حساب متوسط كمية الامطار في حوض التصريف	١٢ درجا																					
٣س	اختر الاجابة الصحيحة ١- عملية انسياب الماء في السطح الى الاسفل خلال طبقات التربة تسمى بـ أ-الرشح ب- الترشيح ج- التخلخل ٢- الفرق بين التبخر الفعلي للأشهر التي يزيد فيها التبخر النتح الكامن على التبخر النتح الفعلي تسمى بـ ١-الفائض المائي ب- العجز المائي ج- العجز والفائض ٣- المواد الناعمة التي تحملها المياه الجارية مسافات طويلة دون ان تلامس القاع تحني الحمولة : أ-الذائبة ب- العالقة ج- القاعية ٤-كمية المياه المطلوب اضافتها للمحاصيل الزراعية لتلبية الاستهلاك المائي عن طريق الري خلال مدة زمنية معينة هي: أ-الاستهلاك المائي ب- الاحتياج المائي ج- المقنن المائي ٥- معادلة تاسيسية مشتقة من ظاهرة فيزيائية تصف تدفق السوائل من خلال الوسط المسامي : أ-معادلة بيركلي ب- معادلة دارسي ج- معادلة خوسلا	١٠ درجا																					
٣س	اجب عن ماياتي أ-عدد خطوات حساب الاحتياجات المائية الاروائية للمحاصيل الزراعية بالتفصيل ، واذكر اهم المعادلات الخاصة بتطبيقاتها . ب- عدد طرق قياس المتغيرات المورفومترية واشرح واحدة منها فقط	١٢ درجا																					
٤س	أ-احسب متوسط كمية المطر المفقودة باحدى طرق قياس دقة المطر(طريقة ثيسين)من الجدول والشكل ادناه؟ <table border="1"><thead><tr><th>station</th><th>P(cm)</th><th>A(km2)</th></tr></thead><tbody><tr><td>A</td><td>7</td><td>120</td></tr><tr><td>B</td><td>5</td><td>90</td></tr><tr><td>C</td><td>3</td><td>50</td></tr><tr><td>D</td><td>9</td><td>30</td></tr><tr><td>E</td><td>8</td><td>80</td></tr><tr><td>TOTal</td><td></td><td></td></tr></tbody></table> ب- عدد طرق تقدير الحمولة النهريّة، مع ذكر معادلاتها	station	P(cm)	A(km2)	A	7	120	B	5	90	C	3	50	D	9	30	E	8	80	TOTal			١٢ درجا
station	P(cm)	A(km2)																					
A	7	120																					
B	5	90																					
C	3	50																					
D	9	30																					
E	8	80																					
TOTal																							



اسم وتوقيع رئيس القسم
أ.م.د. محمد عطية صالح




اسم وتوقيع مدرس المادة
أ.د. دلي خلف حميد

اسم المادة: الاقاليم الجافة

الزمن: ثلاث ساعات

التاريخ: 2024/ 5 / 5

نموذج رقم (1)



جمهورية العراق
وزارة التعليم العالي والبحث العلمي
جامعة تكريت
كلية التربية للعلوم الانسانية
قسم : الجغرافية
الدراسة: دكتوراه


اسئلة امتحان الكورس الثاني العليا للعام الدراسي 2023-2024

رقم السؤال	السؤال	درجة السؤال
1س	عرف ما ياتي :- 1- الاقاليم الجافة . 2- الدورة الكوكبية للرياح . 3- الخاصية الاسموزية . 4- الصخور الارتكازية . 5- الحصاد المائي .	10
2س	اختر الاجابة الاصححة مما ياتي :- 1- تمتاز الترب في الاقاليم الجافة بـ . أ- انخفاض السعة الحقلية . ب- ارتفاع السعة الحقلية . ج- سرعة تحلل المواد العضوية . 2- القيعان الصحراوية من اشكال الارض . أ- الريحية . ب- الفيضية . ج- الانكسارية . 3- تكون نسبة الالبيدو في المناطق الجافة . أ- مرتفعة . ب- منخفضة . ج- ثابتة بشكل عام . 4- اعتمد كوبن في تصنيفه المناخي للعالم على عنصري . أ- الحرارة والامطار . ب- الحرارة والتبخر . ج- الحرارة والرطوبة . 5- القدور اللولبية من اشكال الارض الناتجة عن . أ- التعرية المائية . ب- التعرية الريحية . ج- التجوية الكيميائية .	10
3س	املا الفراغات الاتية :- 1- تقل كمية الامطار الساقطة عن _____ ملم سنويا في الاقاليم شديدة الجفاف وما بين _____ ملم في الاقاليم الجافة . 2- تخضع الاراضي الجافة لتاثير نطاقات ضغوط جوية _____ تنشأ عن الدورة _____ للرياح . 3- ان هدر المياه الجوفية بكميات كبيرة يصعب تعويضها بسبب انقضاء الفترات المناخية _____ الرطبة وانتشار ظروف _____ . 4- يسكن المناطق الجافة نحو _____ نوع من الحشرات والحيوانات التي كيفت نفسها بطرق مختلفة لمواجهة _____ . 5- اهم مظاهر الترسيب الريحي في المناطق الجافة هي _____ و _____ .	10
4س	اجب بعلامة (✓) او (x) امام ماتراه ملائما :- 1- يحدث الانقلاب التضاريسي في حالة توفر صخور صلبة .	10

اسم وتوقيع رئيس القسم
أ.م.د. محمد عطية صالح

مدرس المادة: أ.د. علي مخلف سبع





اسئلة امتحان الكورس الاول العليا للعام الدراسي 2023-2024


درجة السؤال	السؤال	رقم السؤال
20	<p>اختر الإجابة الصحيحة لعشرة مما يأتي؟</p> <p>1- الكتلة الحيوية هي اي مادة عضوية قامت بتخزين ضوء الشمس في a - طاقات بيولوجية b - طاقات حيوية c - طاقات كيميائية d - طاقات فيزيائية</p> <p>2- يعد أكثر مصادر طاقة الكتلة الحيوية شيوعاً فقد تم استخدام الخشب منذ آلاف السنين لأغراض التدفئة والطهي وحديثاً انتاج الطاقة الكهربائية a - الصخور الزيتية b - الخشب c - اليورانيوم d - الماء</p> <p>3- إستفاد الإنسان منذ القدم من طاقة الإشعاع الشمسي مباشرة في تطبيقات عديدة مثل وتدفئة المنازل a - اناة الشوارع b - طهي الأغذية c - تجفيف المحاصيل الزراعية d - تحريك المطاحن</p> <p>4- هي أي شكل من أشكال مصادر الطاقة الشمسية أو الجيوفيزيائية أو البيولوجية التي تعيد العمليات الطبيعية تزويدها مجدداً بمعدل يساوي أو يفوق معدل إستخدامها. a - الطاقة المتجددة b - الطاقة الحيوية c - طاقة الرياح d - الطاقة الشمسية</p> <p>5- الطاقة النووية هي شكل من أشكال الطاقة المنبعثة من..... a - البروتونات b - النيوترونات c - اليورانيوم d - النواة</p> <p>6- تستخدم عملية الانشطار النووي في إنتاج في المفاعلات النووية، كما تستعمل لإنتاج الأسلحة النووية. a - الطاقة النووية b - الطاقة الكهربائية c - الطاقة الجيوفيزيائية d - الطاقة الحرارية</p> <p>7- تعد في صدارة الدول الأكثر إنتاجاً للطاقة، بحصة إنتاج بلغت 30.9% من إجمالي الطاقة النووية المنتجة عالمياً، a - الصين b - الولايات المتحدة الأمريكية c - روسيا d - فرنسا</p> <p>8- تعد أولى الدول العربية استخداماً للطاقة النووية للأغراض السلمية a - مصر b - السعودية c - الأردن d - الامارات العربية المتحدة</p> <p>9- جاءت في المركز الثاني بحجم إنتاج للطاقة الشمسية تجاوزت سعته 75 ألف ميغاواط، بما يمثل 10.6% من السعة العالمية للطاقة الشمسية المنتجة في 2021 a - الولايات المتحدة الأمريكية b - الصين c - اليابان d - المانيا</p> <p>10- جاءت في المركز الثاني بقائمة أكثر الدول العربية توليداً للكهرباء من الطاقة الشمسية a - الامارات b - مصر c - الاردن d - قطر</p> <p>11- طاقة الرياح هي شكل من أشكال مصادر الطاقة المتجددة، تحول فيها التوربينات الطاقة الحركية للرياح إلى طاقة أو كهربائية a - ستاتيكية b - ديناميكية c - ميكانيكية d - الكترونية</p>	1

اسم وتوقيع رئيس القسم
ا.م.د محمد عطيه صالح



مدرس المادة:
ا.د مثني مشعان خلف

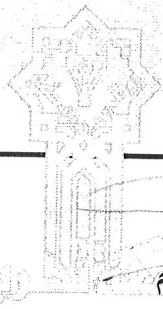
اسم المادة: مصادر طاقة
الزمن: ثلاث ساعات
التاريخ: 6 / 2022/
نموذج رقم (1)



جمهورية العراق
وزارة التعليم العالي والبحث العلمي
جامعة تكريت
كلية التربية للعلوم الانسانية
قسم : الجغرافية
الدراسة: الدكتوراه

اسئلة امتحان الكورس الاول العليا للعام الدراسي 2023-2024

10	املا خمسة من الفراغات الاتية:- 1- تعد الأسلحة النووية مثل أو الذرية هي أول ما يفكر فيه المرء عند ذكر الطاقة النووية. 2- يعرف بحول المحاصيل وهو وقود سائل يصنع من محاصيل الذرة وقصب السكر. 3- يأتي من الكائنات الحية الدقيقة التي تكسر المخلفات العضوية حيث تصبح خليط من غاز الميثان وثاني اكسيد الكربون. 4- وقود الايثانول يعرف ب..... وهو وقود سائل يصنع من محاصيل الذرة وقصب السكر. 5- تستخدم لتحويل الطاقة الكهربائية المنتجة من الخلايا الشمسية إلى الجهد المناسب للإستخدام في المنازل أو الأجهزة الإلكترونية. 6- تعد الهند رابع دولة عالميا و..... دولة في آسيا إنتاجا لطاقة الرياح، بسعة إجمالية تبلغ 35 جيجاواط.	3
15	تعد الطاقة الشمسية أحد اهم مصادر الطاقة النظيفة والمتجددة، لذلك نلاحظ ان هناك تنامي في استخدامها في معظم دول العال، لما لها من فوائد عديدة وتأثير على البيئة. حدد وبالتفصيل فوائد الطاقة الشمسية وتأثرها على البيئة.	4
15	الطاقة البيولوجية شكل من اشكال الطاقة المتجددة، تتوفر من موارد مشتقة من المصادر الحيوية والكتلة الحيوية وهي اي مادة عضوية قامت بتخزين ضوء الشمس في طاقات كيميائية. اعطي تفصيلا كاملا عن الطاقة البيولوجية يتضمن اهم مصادرها، وكيف يتم انتاجها، والدول المنتجة لها.	5



اسم وتوقيع رئيس القسم
ا.م.د محمد عطيه صالح


مدرس المادة:
ا.د مثنى مشعان خلف

اسم المادة: منهج البحث الجغرافي

الزمن: ثلاث ساعات

التاريخ: ٢٠٢٤/٧/٢٠

نموذج رقم (١)



جمهورية العراق
وزارة التعليم العالي والبحث العلمي
جامعة تكريت
كلية التربية للعلوم الانسانية
قسم : الجغرافية
الدراسة: العليا / دكتوراه

اسئلة امتحان الكورس الثاني العليا للعام الدراسي ٢٠٢٣-٢٠٢٤

رقم السؤال	السؤال	درجة السؤال
١س	يواجه الباحث الجغرافي الكثير من المعوقات والمشكلات واعتبارات من مرحلة اختيار مشكلة البحث وحتى النهاية، وضحاها بالتفصيل.	١٤ د
٢س	أجب ب (صح) او (خطأ) مع تصحيح العبارة الخاطئة: ١. يعد تصنيف البيانات في البحث الجغرافي أسلوبا من أساليب التحليل العلمي . ٢. يكون حجم العينة المختارة كبيرا اذا كان مجتمع الدراسة متجانسا . ٣. يتم احتساب الدرجة المعيارية باستخدام القانون الاتي : $D = \frac{S - S_m}{C}$ ٤. من أهم القيم الأخلاقية في البحث العلمي هي النزاهة أي تجرد الباحث عن الاهواء ٥. على الباحث مراعاة الدقة البالغة عند اختيار مشكلة البحث وصياغتها . ٦. من المبادئ الأساسية لاخلاقيات البحث العلمي هي نشر المعلومات التي تضر بالامن القومي للدولة. ٧. تعد مرحلة جمع البيانات الإحصائية من أهم مراحل البحث الجغرافي .	١٤ د
٣س	أ) حلل أحد المصادر او الكتب المتخصصة بمنهج البحث الجغرافي والتي تم الاطلاع عليها وباختصار. ب) حدد خطة بحث لأطروحة دكتوراه مفترضة وبحسب تخصصك الجغرافي مع ذكر الفصول والمباحث بالتفصيل.	٧ د
٤س	اذكر اهم أنماط كتابة الهوامش والمستخدمه في البحث العلمي مع التأكيد على أمثلة للنمط المستخدم في قسمنا ولكل حالة.	١٤ د
٥س	أ) ما هي الإجراءات التي يقوم بها الباحث العلمي بعد تحديد خطة البحث، اذكرها باختصار. ب) هناك عدة اعتبارات منهجية على الباحث الوقوف امامها عند اختيار مشكلة الدراسة، اذكرها باختصار.	٧ د



رئيس القسم
ا.م.د محمد عطيه صالح

مدرس المادة:
أ.د. نجم عبد الله احمد